

IME: \_\_\_\_\_

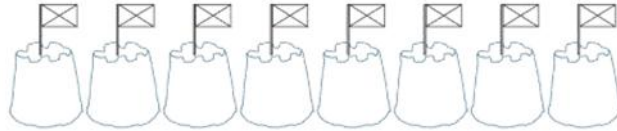
DATUM: \_\_\_\_\_



#1

## NA OBALI 1

ODKRIJ, KAJ JE PETER POČEL NA MORSKI OBALI.



1. PETER JE ZGRADIL 8 PEŠČENIH GRADOV. MORJE JIH JE ODPLAVILO 5. KOLIKO JIH JE ŠE OSTALO?

RAČUN: \_\_\_\_\_

ODGOVOR: \_\_\_\_\_

2. V VODNI KOTANJI JE NAŠEL 3 MORSKE ZVEZDE. PREŠTEL JIM JE KRAKE. KOLIKO JIH JE NAŠTEL?



RAČUN: \_\_\_\_\_

ODGOVOR: \_\_\_\_\_

3. ZAGLEDAL JE JATO 10 MORSKIH KONJIČKOV. 3 SO SE PREPLAŠILI IN ODPLAVALI PROČ. KOLIKO JIH JE OSTALO?



RAČUN: \_\_\_\_\_

ODGOVOR: \_\_\_\_\_

4. MIMO NJEGA SO PRIPLAVALE 4 RIBE, KASNEJE PA SE JIM JE PRIDRUŽILO ŠE 8 RIB. KOLIKO JIH JE BILO VSEH?



RAČUN: \_\_\_\_\_

ODGOVOR: \_\_\_\_\_

IME: \_\_\_\_\_

DATUM: \_\_\_\_\_



#2

## NA OBALI 2

PETER JE BIL S PRIJATELJI NA IZLETU OB MORJU. PREBERI, KAJ SO POČELI IN ODGOVORI NA SPODNJA VPRAŠANJA.



1. SARA JE NA MORJU VIDELA 16 JADRNIC, MIHA PA SAMO 11. KOLIKO VEČ JADRNIC JE VIDELA SARA?

RAČUN: \_\_\_\_\_

ODGOVOR: \_\_\_\_\_

2. OD 16 JADRNIC JIH JE 7 IMELO MODRA JADRA, OSTALE PA RUMENA. KOLIKO JADRNIC JE IMELO RUMENA JADRA?

RAČUN: \_\_\_\_\_

ODGOVOR: \_\_\_\_\_

3. MED SKALAMI JE PETER ZAGLEDAL 15 RAKOVIC. 4 MU JE USPELO UJETI, OSTALE PA SO POBEGNILE. KOLIKO MU JIH JE POBEGNILO?

RAČUN: \_\_\_\_\_

ODGOVOR: \_\_\_\_\_

4. MIHA JE V PRVI VODNI KOTANJI UJEL NAŠEL 11 ŠKOLJK, V DRUGI PA 7. KOLIKO ŠKOLJK JE NAŠEL?

RAČUN: \_\_\_\_\_

ODGOVOR: \_\_\_\_\_

5. PRED KOSILOM JE BILO NA PLAŽI 14 PEŠČENIH BAZENČKOV, MED KOSILOM PA JIH JE MORJE ZALILO 8. KOLIKO BAZENČKOV JE ŠE OSTALO V PESKU?

RAČUN: \_\_\_\_\_

ODGOVOR: \_\_\_\_\_

6. PETER IN JAN STA TEKMOVALA V METANJU ŽABIC. PETROVA JE POSKOČILA 6-KRAT, JANOVA PA 11-KRAT. KOLIKO POSKOSOV VEČ JE NAREDILA JANOVA ŽABICA?

RAČUN: \_\_\_\_\_

ODGOVOR: \_\_\_\_\_

IME: \_\_\_\_\_

DATUM: \_\_\_\_\_



#3

## RIBOLOV

PETER JE S PRIJATELJI ODŠEL NA RIBOLOV. UGOTOVI, KOLIKO RIB SO UJELI.

1. PETER JE UJEL 10 RIB VEČ KOT JAN. JAN JE ULOVIL 15 RIB. KOLIKO RIB JE ULOVIL PETER?

RAČUN: \_\_\_\_\_

ODGOVOR: \_\_\_\_\_

2. JAN JE V PRI URI UJEL 12 RIB, V NASLEDNJI URI PA ŠE 6 RIB. KOLIKO RIB JE UJEL?

RAČUN: \_\_\_\_\_

ODGOVOR: \_\_\_\_\_

3. MIHA JE V DVEH URAH UJEL 20 RIB, OD TEGA V PRI URI 12. KOLIKO RIB JE UJEL V DRUGI URI?

RAČUN: \_\_\_\_\_

ODGOVOR: \_\_\_\_\_

4. DO KOSILA JE JAN UJEL 18 RIB. PO NESREČI SE MU JE VEDRO PREVRNILO IN 9 RIB JE PADLO V VODO. KOLIKO RIB MU JE OSTALO?

RAČUN: \_\_\_\_\_

ODGOVOR: \_\_\_\_\_

5. MIHA JE IMEL 20 RIB, ZATO JE 10 RIB DAL JANIJU, DA JE NAPOLNIL VEDRO. KOLIKO RIB MU JE ŠE OSTALO?

RAČUN: \_\_\_\_\_

ODGOVOR: \_\_\_\_\_

6. OB KONCU RIBOLOVA JE BIL REZULTAT NASLEDNJI:  
JAN: 45 RIB, PETER 92 RIB, MIHA 23 RIB IN JURE 86 RIB.  
RAZVRSTI REZULTATE OD NAJVEČJEGA DO NAJMANJŠEGA.

\_\_\_\_\_, \_\_\_\_\_, \_\_\_\_\_, \_\_\_\_\_



IME: \_\_\_\_\_

DATUM: \_\_\_\_\_

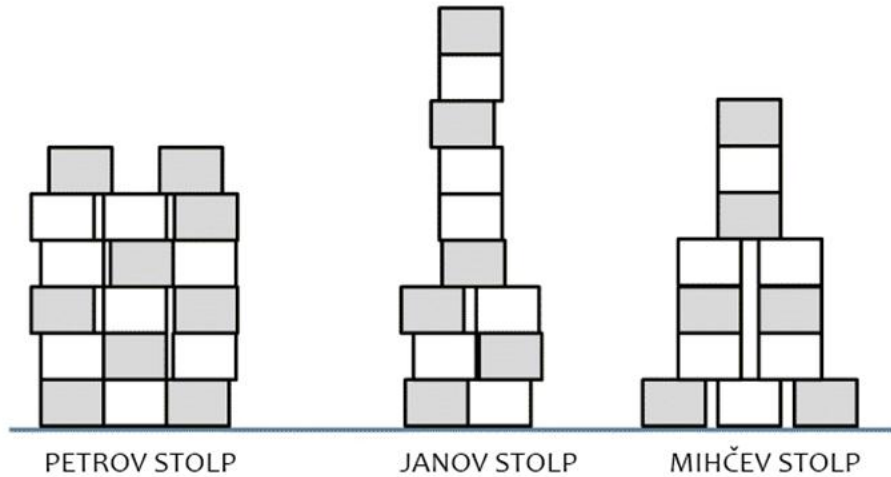


#4

## STOLPI IZ KOCK

PETER IN PRIJATELJA SO IZ KOCK SESTAVLJALI STOLPE.

ODGOVORI NA SPODNJA VPRAŠANJA.



1. ČIGAV STOLP JE NAJVIŠJI? \_\_\_\_\_

2. KOLIKO KOCK JE V MIHČEVEM STOLPU? \_\_\_\_\_

3. IZ KOLIKO KOCK JE NAREJEN JANOV STOLP? \_\_\_\_\_

4. KOLIKO KOCK JE VISOK PETROV STOLP? \_\_\_\_\_

5. ZA KOLIKO KOCK JE JANOV STOLP VIŠJI OD PETROVEGA? \_\_\_\_\_

6. ČIGAVA STOLPA STA NAREJENA IZ ENAKEGA ŠTEVILA KOCK?

\_\_\_\_\_

IME: \_\_\_\_\_

DATUM: \_\_\_\_\_



#5

## NA ZABAVI

PETER JE ZA SVOJ ROJSTNI DAN PRIPRAVIL ZABAVO. PREBERI  
VPRAŠANJA IN ODGOVORI NANJE.



7. PRVO URO JE NA ZABAVO PRIŠLO 6 GOSTOV, NASLEDNJO URO PA SE JIM  
JE PRIDRUŽILO ŠE 8 PRIJATELJEV. KOLIKO JE BILO VSEH GOSTOV?

RAČUN: \_\_\_\_\_

ODGOVOR: \_\_\_\_\_

8. PETER JE DOPOLDNE DOBIL 4 DARILA, POPOLDNE PA ŠE 6. KOLIKO DARIL JE  
DOBIL ZA SVOJ ROJSTNI DAN?

RAČUN: \_\_\_\_\_

ODGOVOR: \_\_\_\_\_

9. NA PETROVI TORTI SO BILE 3 MODRE, 4 RDEČE IN 5 BELIH SVEČK. KOLIKO JE BILO  
VSEH SVEČK?

RAČUN: \_\_\_\_\_

ODGOVOR: \_\_\_\_\_

10. PETROVA TORTA JE BILA RAZREZANA NA 12 KOSOV. S PRIJATELJI SO POJEDLI 5  
KOSOV. KOLIKO KOSOV JIM JE ŠE OSTALO?

RAČUN: \_\_\_\_\_

ODGOVOR: \_\_\_\_\_

11. PETER JE DOBIL DVE VREČKI GUMIJASTIH ŽABIC. V PRVI JE BILO 8 ŽABIC, V DRUGI  
PA 7. KOLIKO JE BILO VSEH ŽABIC?

RAČUN: \_\_\_\_\_

ODGOVOR: \_\_\_\_\_

12. V IGRI MED DVEMA OGNJEMA JE SODELOVALO 14 OTROK. KASNEJE JE 5 OTROK  
ODŠLO DOMOV. KOLIKO JIH JE ŠE OSTALO?

RAČUN: \_\_\_\_\_

ODGOVOR: \_\_\_\_\_

IME: \_\_\_\_\_


DATUM: \_\_\_\_\_



#6

## ZAPESTNICA IZ KROGLIC

PETER JE SKLENIL, DA BO SVOJI PRIJATELJICI SARI NAREDIL ZAPESTNICO IZ KROGLIC. UPORABIL JE NASLEDNJI VZOREC:



PRVA KROGLICA

1. KOLIKO KROGLIC JE SEDAJ NA VRVICI? \_\_\_\_\_
2. KATERA KROGLICA JE PETA V VRSTI: BELA, PIKČASTA ALI ČRTASTA?  
\_\_\_\_\_
3. KATERA JE 12. KROGLICA? \_\_\_\_\_
4. KOLIKO JE VSEH PIKČASTIH KROGLIC V NIZU? \_\_\_\_\_
5. KATERA KROGLICA BO NASLEDNJA V NIZU? \_\_\_\_\_
6. PETER JE DODAL ŠE 9 KROGLIC. IZ KOLIKO KROGLIC JE SEDAJ NAREJENA ZAPESTNICA? \_\_\_\_\_
7. KOLIKO BELIH KROGLIC JE SEDAJ V NJEJ? \_\_\_\_\_
8. KATERA KROGLICA JE ZADNJA V NIZU? \_\_\_\_\_
9. NARIŠI ŠE TI PODOBNO ZAPESTNICO.

IME: \_\_\_\_\_

DATUM: \_\_\_\_\_



#7

## NA KEGLJANJU

PETER JE POVABIL SARO, JANA IN MIHA NA KEGLJANJE.

1. OB KONCU PRVEGA KROGA JE PETER OSVOJIL 8 TOČK, MIHA PA 3 TOČKE. KOLIKO TOČK VEČ JE OSVOJIL PETER?



RAČUN: \_\_\_\_\_

ODGOVOR: \_\_\_\_\_

2. V DRUGEM KROGU JE SARA V PRVEM METU OSVOJILA 3 TOČKE, V DRUGEM METU PA 6 TOČK. KOLIKO TOČK SKUPAJ JE ZBRALA SARA?

RAČUN: \_\_\_\_\_

ODGOVOR: \_\_\_\_\_

3. V PRVEM KROGU JE PETER OSVOJIL 8 TOČK, V DRUGEM 7 IN V TRETJEM 3 TOČKE. KOLIKO TOČK JE ZBRAL V 3 KROGIH?

RAČUN: \_\_\_\_\_

ODGOVOR: \_\_\_\_\_

4. MIHA JE V TREH KROGIH DOSEGEL 20 TOČK: V PRVEM KROGU 3, V DRUGEM PA 9. KOLIKO TOČK JE DOSEGEL V TRETJEM KROGU?

RAČUN: \_\_\_\_\_

ODGOVOR: \_\_\_\_\_

5. OB KONCU IGRE SO BILI REZULTATI NASLEDNJI: SARA 79 TOČK, MIHA 92 TOČK, PETER 76 IN JAN 57 TOČK.

RAZVRSTI REZULTATE OD NAJMANJŠEGA DO NAJVEČJEGA.

\_\_\_\_\_, \_\_\_\_\_, \_\_\_\_\_, \_\_\_\_\_,

