

Ime in priimek: \_\_\_\_\_

Datum: \_\_\_\_\_

Vpiši letni čas in ga poveži s sliko.



21. marec



POLETJE



JESEN



**Na črto zapiši letni čas!**

Listje zeleni. \_\_\_\_\_

Listje rumeni. \_\_\_\_\_

Ptice si spletajo gnezda. \_\_\_\_\_

Gredo v južne kraje. \_\_\_\_\_

V gozdu nabiramo gobe in borovnice. \_\_\_\_\_

Dnevi so kratki. \_\_\_\_\_

Dnevi so dolgi. \_\_\_\_\_

Pregovor pravi, da prinese Valentin,  
ki ga praznujemo 14. Februarja, ključ do korenin. \_\_\_\_\_

**Vstavi pravo besedo.**

Januar je običajno \_\_\_\_\_. (topel, hladen).

(Pust, Dedek Mraz) \_\_\_\_\_ odganja zimo.

21. junija nastopi letni čas, ki je od vseh \_\_\_\_\_. (najtoplejši, najhladnejši)

Takrat je dan \_\_\_\_\_. (najdaljši, najkrajši)

Poleti se otroci veselijo \_\_\_\_\_. (trgatve, počitnic)

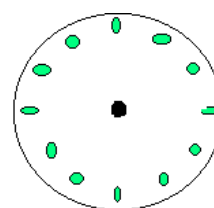
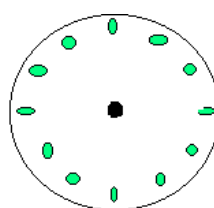
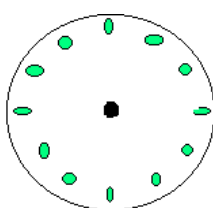
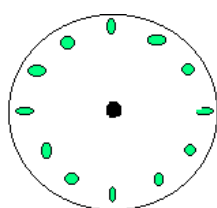
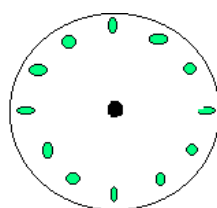
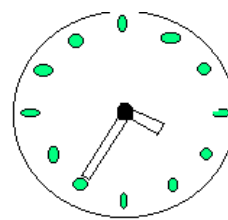
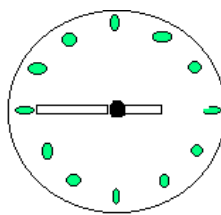
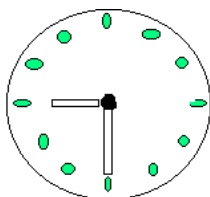
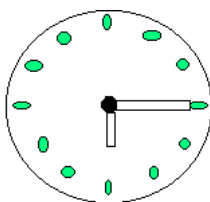
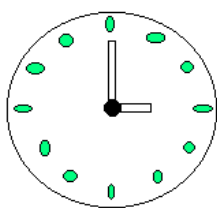
**Dopolni.**

Ena ura ima \_\_\_\_\_ minut. En dan ima \_\_\_\_\_ ur. En teden ima \_\_\_\_\_ dni.

Mesec ima \_\_\_\_\_ ali \_\_\_\_\_ dni. Prestopni mesec je \_\_\_\_\_. Ta ima \_\_\_\_\_ ali \_\_\_\_\_ dni.

Obkroži! Ali je letos prestopno leto?    DA            NE

Zapiši, koliko je ura.



6.00

10.05

20.25

4.40

15.50

