

SEŠTEVANJE DESETIC DO 100

Izračunaj!

$$\begin{array}{l} 70 + 20 = \square \\ 60 + 30 = \square \\ 20 + 60 = \square \\ 10 + 40 = \square \\ 60 + 30 = \square \end{array}$$

$$\begin{array}{l} 50 + \square = 70 \\ \square + 20 = 80 \\ 20 + \square = 100 \\ \square + 50 = 90 \\ 40 + \square = 60 \end{array}$$



Dana števila povečaj za 20:

60 80 30 50 70 10 40 20

+20



Dodaj!

$$30 \xrightarrow{+20} \square$$

$$10 \xrightarrow{+50} \square$$

$$40 \xrightarrow{+40} \square$$

$$60 \xrightarrow{+30} \square$$



Napiši račune, ki sodijo v hišo!

90	

ODŠTEVANJE DESETIC DO 100

Izračunaj

$$\begin{array}{r} 90 - 20 = \square \\ 60 - 30 = \square \\ 80 - 60 = \square \\ 100 - 40 = \square \\ 60 - 30 = \square \end{array}$$

$$\begin{array}{r} 50 - \square = 10 \\ \square - 20 = 80 \\ 80 - \square = 10 \\ \square - 50 = 10 \\ 90 - \square = 60 \end{array}$$



Dana števila zmanjšaj za 30:

60 80 90 50 70 100 30

-20



Odvzemi

$$90 \xrightarrow{-20} \square$$

$$80 \xrightarrow{-50} \square$$

$$70 \xrightarrow{-40} \square$$

$$60 \xrightarrow{-30} \square$$

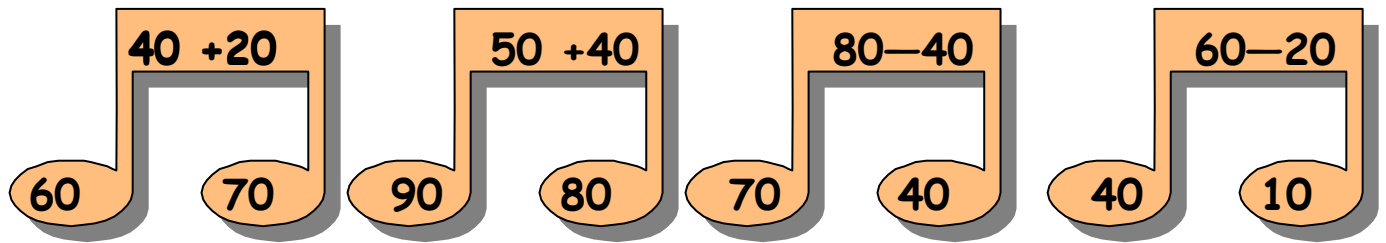


Napiši račune, ki sodijo v hišo!

10	

RAČUNAMO Z DESETICAMI

Obkroži pravi rezultat!



Izračunaj in pobarvaj!

9

70- RDEČA		40- RUMENA			
10- ZELENA		20- MODRA			
$20 + 50$	$90 - 80$	$20 + 60 - 10$	$80 - 40$	$80 - 60$	
$90 - 50$	$70 - 60$	$90 - 80$	$20 - 10$	$60 + 10$	$80 - 70$
$30 + 40$	$10 + 60$			$10 + 30$	$60 - 20$

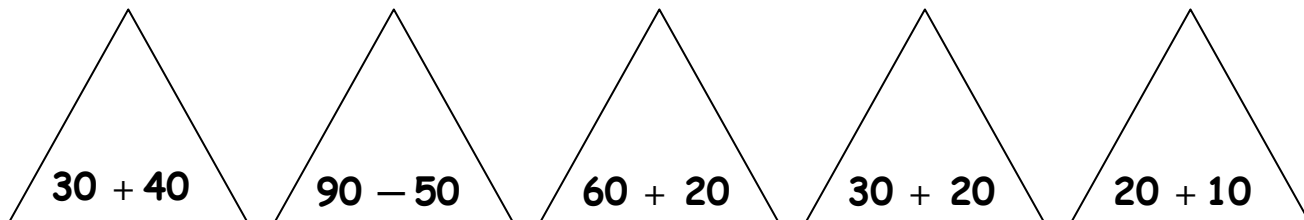
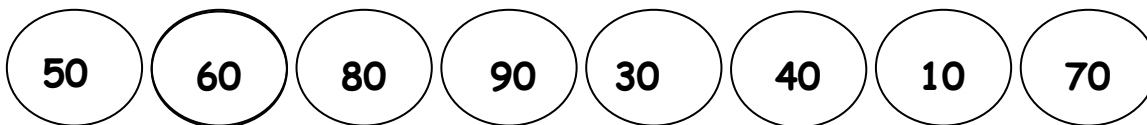


V 2. a razredu je 20 učencev, v 2. d razredu pa 30 učencev. Koliko učencev je v obeh razredih?

Račun: _____

Odgovor: _____

Pobarvaj krog in trikotnik z enako barvo. (račun, rezultat)



Izračunaj:

$30 + 40 + 20 =$	<input type="text"/>
$90 - 50 - 10 =$	<input type="text"/>
$40 + 20 - 30 =$	<input type="text"/>
$80 - 20 + 30 =$	<input type="text"/>

Vstavi znak <, >, =

$60 + 30$	<input type="text"/>	$80 - 70$	$70 - 20$	<input type="text"/>	$50 + 50$
$20 + 70$	<input type="text"/>	$30 + 60$	$60 + 10$	<input type="text"/>	$80 - 20$
$90 - 80$	<input type="text"/>	$30 - 10$	$40 + 10$	<input type="text"/>	$60 - 10$